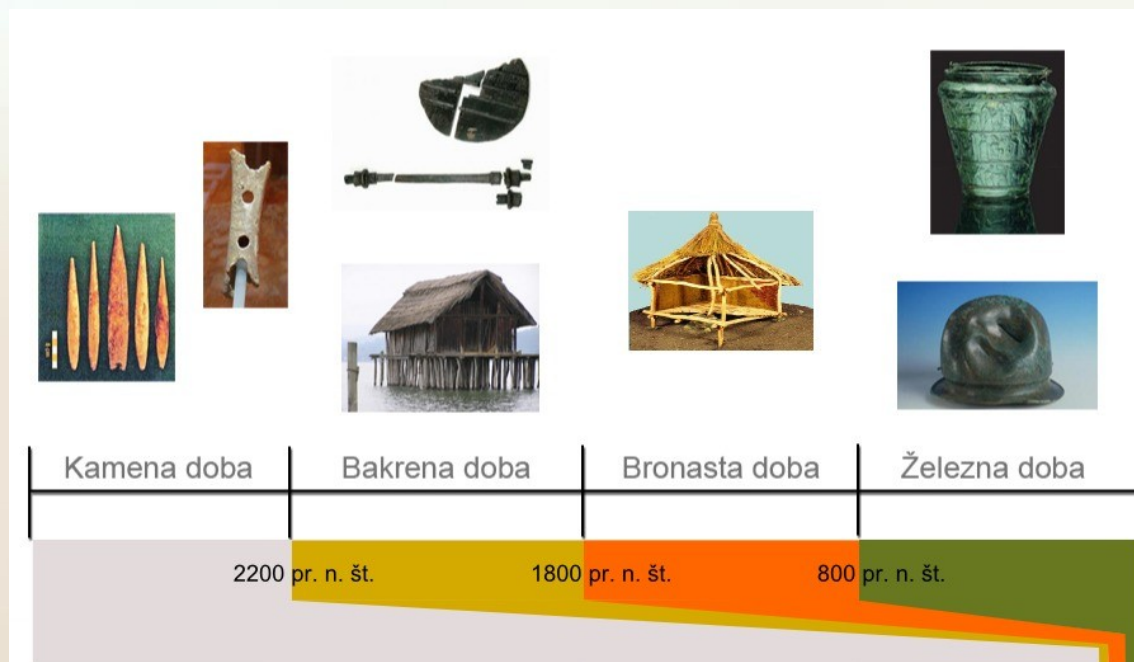


Preverjam svoje znanje

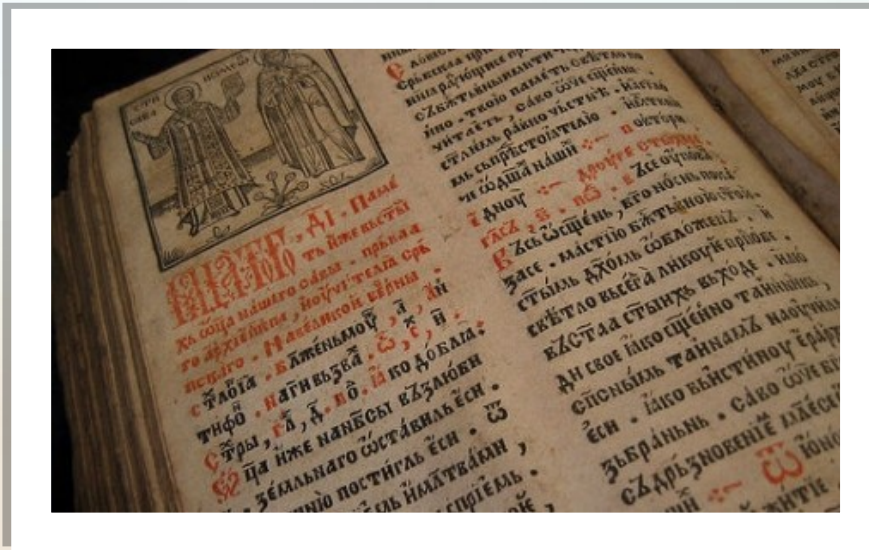
DRU: Prazgodovina (april 2020)

Kaj je zgodovina? Izberi ustrezen odgovor.

- a. Veda o nastanku Zemlje.
- b. Veda o preteklosti človeštva.
- c. Veda o razvoju dinozavrov.



Katero vrsto zgodovinskega vira predstavlja slika? Izberi ustrezen odgovor.



- a. Pisni vir.
- b. Ustni vir.
- c. Materialni vir.
- d. Avdiovizualni vir.



Zgodovinska obdobja razvrsti v pravilno zaporedje, od najstarejšega do najmlajšega.

srednji vek

novi vek

prazgodovina

moderna doba ali

sodobnost

stari vek


1. _____

2. _____

3. _____

4. _____

5. _____



Kateri odgovor je pravilen?

Prazgodovino razdelimo na več dob. Katera je najstarejša?

- bakrena doba
- bronasta doba
- kamena doba
- železna doba

V kateri dobi so prvič uporabljali pestnjak?

- V bakreni dobi.
- V kameni dobi.
- V bronasti dobi.



Poišči ustrezne odgovore.

S čim so se preživljali ljudje v kameni dobi?

- a. Z lovom živali.
- b. S poljedelstvom.
- c. Z živinorejo.
- d. Z nabiralništvom.


Iz česa je bilo orodje in orožje, ki ga je uporabljal človek v kameni dobi?

- a. Iz bakra.
- b. Iz kamna.
- c. Iz kosti divjih živali.
- d. Iz železa.
- e. Iz lesa.



Katero bivališče ali zatočišče je uporabljal človek, ki je živel v kameni dobi?

a.



b.



c.



d.



Z besedami ali besednimi zvezami dopolni povedi.

ogenj, nabiralništvo, živalske kože, kamen, živalske
kosti, nabiranje

Prvi ljudje so hrano dobili z _____rastlin, sadežev
in plodov. Temu rečemo _____.

Za izdelavo orodja in orožja so uporabljali
_____ in _____.

Pomembno odkritje je bil _____.

Pred mrazom, vetrom in dežjem so si telo zaščitili z
_____.



Ob miselnem vzorcu pripoveduj o življenju mostiščarjev/koliščarjev.

V katerem obdobju so živel?

Kaj je deblak ali drevak? Čemu je bil namenjen?

Kje so živel?

Katere materiale so uporabljali za izdelavo orodja, orožja, nakita ...?



S čim so se preživljali?

Iz katerega materiala so bile hiše?

S čim so se prehranjevali?

Oniši



Dopolni, da bo opis posode čim bolj natančen.



Na sliki je _____.

Naredili so jo v _____
dobi.

Ta posoda je izdelana iz
(material) _____.

Posodo so uporabljali za
_____.

Originalno posodo si lahko
ogledamo v

_____.



Poimenuj prazgodovinske najdbe in povej, kje so jih našli (najdišče).



ime najdbe: _____

najdišče: _____




ime najdbe: _____

najdišče: _____



ime najdbe: _____

najdišče: _____



ime najdbe: _____

najdišče: _____



Koliko tvojih odgovorov je zaslužilo aplavz?

- od 33 do 37 : Sem odličen poznavalec/poznavalka prazgodovine.
- od 22 do 31 : Prazgodovino dobro poznam, vendar ne bo nič narobe, če še malce ponovim.
- od 17 do 21 : Mhm! Za boljše poznavanje prazgodovine si bom moral/a vzeti čas.