

# KAJ ŽE ZNAM?

DATUM: \_\_\_\_\_

IME: \_\_\_\_\_

① \_\_\_\_\_

• Zapiše števila do 100.

② VSTAVI ZNAK  $<$ ,  $>$ ,  $=$ .

$52 \square 25$

$49 \square 94$

$98 \square 82$

$34 \square 38$

$65 \square 65$

$59 \square 54$

• Primerja števila do 100 po velikosti.

③ UREDI ŠTEVILA PO VELIKOSTI:

- OD NAJMANJŠEGA DO NAJVEČJEGA

• • •

35, 53, 43 → \_\_\_\_\_

91, 19, 100, 35 → \_\_\_\_\_

- OD NAJVEČJEGA DO NAJMANJŠEGA


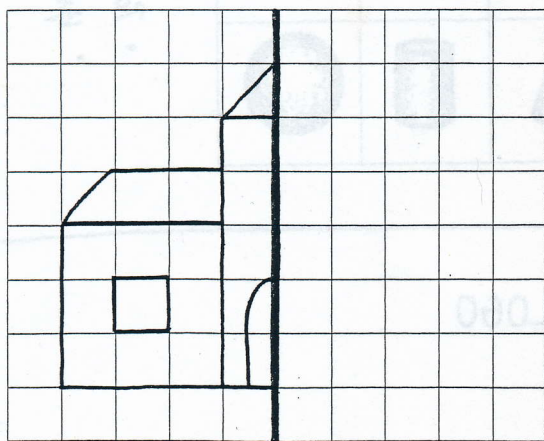
• • •

15, 51, 37 → \_\_\_\_\_

42, 82, 47, 100 → \_\_\_\_\_

• Števila do 100 ureja po velikosti.

④ DOPOLNI RISBI TAKO, DA BOSTA SIMETRIČNI. POBARVAJ.



• Risba s pomočjo mreže dopolni tako, da je simetrična.

⑤ 12 JABOLK PRAVIČNO RAZDELI V TRI KOŠARE.

Risba:

Racun: \_\_\_\_\_





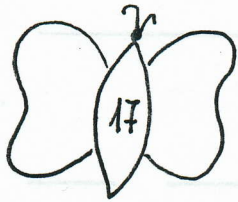
KOLIKO JABOLK JE V VSAKI KOŠARI?

\_\_\_\_\_

• Nariše situacijo deljenja in zapiše račun.




6.








• Poišče predhodnik in naslednik števila.

7.




	ŠTEVILO
KVADER	
KOCKA	
STOŽEC	
VALJ	
KROGLA	

• Ponaša imena geometrijskih teles.  
 • Vrste podatke v preglednico du prikaže s stolpci.

\*

K RISBI SESTAVI BESEDILNO NALOGO IN JO REŠI.




---



---



---



---