

POUK GEOGRAFIJE NA DOMU ZA UČENCE 7. A RAZREDA – 3. TEDEN (30. 3. – 3. 4. 2020)

Dragi učenci!

Ta teden boste potrebovali dostop do interaktivnega učbenika **RAZISKUJEM STARI SVET 7**, saj ga boste potrebovali za reševanje interaktivnih vaj in ogled videoposnetka.

Še vedno velja, da si učne liste lahko natisnete, rešite in prilepite v zvezek ali pa rešitve napišete v zvezek, če nimate tiskalnika. Enako velja za snov. Vsekakor si boste nove vsebine boljše zapomnili, če jih boste prepisali v zvezek. Na spodnja kontakta mi **najkasneje do petka, 3. 4. popoldne, pošljite skenirano /fotografirano** opravljeno delo, prav tako me lahko vprašate, če česa ne znate ali razumete. Sama si sproti (v eAsistentu) zabeležim, kdo mi je poslal povratno informacijo o delu na domu.

Kontaktirate me lahko preko **eAsistenta** ali na e-mail naslov: tjasa.grobin@guest.arnes.si .

Ostanite zdravi in polni delovnega zagona, vaša učiteljica
Tjaša Grobin Kham.

P.S. Kdor tega še ni storil, se lahko loti tudi **seminarske naloge. Če potrebujete navodila za izdelavo, mi pišite!**

Obe uri boš namenil/a ponavljanju in utrjevanju snovi Evrope.

1. ŠOLSKA URA

1. Reši spodnji učni list, s katerim boš ponovil/a in utrdil/a usvojeno znanje Vzhodne Evrope in Severne Azije.

VZHODNA EVROPA IN SEVERNA AZIJA – VAJE iz ROKUSOVEGA DELOVNEGA ZVEZKA

1.

Vzhodna Evropa in Severna Azija kljub svoji velikosti zajemata le štiri države.

S pomočjo naštetih besed, ki se nanašajo na določeno državo, sklepaj, za katero državo gre.

Sibirija	+	največja država na svetu	+	Moskva	+	leži v Aziji in v Evropi	=	
dobri pogoji za kmetijstvo	+	44 milijonov prebivalcev	+	večja od Nemčije	+	meji na Slovaško	=	
meji samo na dve državi	+	romanski jezik	+	nekoč del Romunije	+	le malo večja od Slovenije	=	
nima izhoda na morje	+	meji na Litvo	+	Minsk	+	ima podobno ime kot Rusija	=	

2.

Celotna Vzhodna Evropa je nižavje, ki se prek Urala nadaljuje tudi v Severno Azijo.

Obkroži naravne enote, ki so v Vzhodni Evropi in Severni Aziji.



3.

V Vzhodni Evropi in Severni Aziji so hladnejša podnebja in temu prilagojeno rastlinstvo.

Rastlinstvo poveži z ustreznim opisom in podnebjem. Uporabi različne barve.

stepa	mahovi, lišaji in nizko grmičje	celinsko podnebje
tundra	travniško rastlinstvo	zmerno hladno podnebje
tajga	iglasti gozd	tundrsko podnebje

4. Vzhodna Evropa in Severna Azija sta zelo redko poseljeni.

V učbeniku si na straneh 14 in 15 ter 78 in 79 oglej zemljevida, ki prikazujeta gostoto poselitve.

A) Primerjaj poselitev Vzhodne Evrope s poselitvijo v ostalih delih Evrope. Kaj opaziš?

B) Kako se v Vzhodni Evropi spreminja gostota prebivalstva?

C) Primerjaj poselitev Vzhodne Evrope s poselitvijo Severne Azije. Kaj opaziš?

Č) Naštej nekaj dejavnikov, ki vplivajo na gostoto prebivalstva.

5. Najpomembnejša gospodarska dejavnost v Vzhodni Evropi in Severni Aziji je industrija.

V učbeniku na strani 69 preberi besedilo, ki govori o gospodarstvu, in odgovori na vprašanja.

A) Kje so največja rudna nahajališča v Vzhodni Evropi in Severni Aziji?

B) Zakaj velik del rud v Vzhodni Evropi in Severni Aziji ne izkoriščajo?

C) Kakšne vrste industrija prevladuje v Vzhodni Evropi in Severni Aziji?

Č) Zakaj so številne tovarne na tem območju v preteklosti propadle?

D) Katere so posledice propada tovarn?

2. Reši interaktivno vajo na spletni povezavi (države in glavna mesta):

https://interaktivne-vaje.si/geografija/evropa/gradiva/vzhodna_evropa/v_ev_dr_gl/v_ev_dr_gl.htm

Nato klikni PREVERI, da preveriš pravilnost svojih odgovorov.


2. ŠOLSKA URA

Odpri interaktivni Rokusov učbenik **RAZISKUJEM STARI SVET 7** (glej navodila v 1. tednu, če si ga še nisi naložil) in reši naslednje naloge:

1. Učb. str. 63: DRUŽBENE ZNAČILNOSTI SEVERNE EVROPE.

Klikni na vijolično puščico, kakor kaže rdeča puščica.

Prepiši odgovore ali slikaj narejeno nalogo.



2. Učb. str. 62: Oglej si kratek video o POLARNEM SIJU .

Klikni na vijolično ikono, kakor kaže rdeča puščica.



Kaj so bele noči?

Odgovori na vprašanja.

1. Kako še drugače imenujemo POLARNI SIJ? _____ ali _____ sij.

2. Kaj je polarni sij? _____

3. Kakšne barve je sij (svetloba) - če delci zadenejo atom kisika? _____

- če delci zadenejo atom dušika? _____

3. EVROPA ŠE ENKRAT NA KRATKO: Reši vaje v učb. na str. 70-71!

a) Preberi si povzetke o Evropi in posameznih delih Evrope.

b) Obkroži pravilen odgovor (1—11). Rešitve napiši v zvezek.

Npr. 1c, 2 a) _____, b) _____ c) _____

č) _____, 3 _____, 4 _____, 5 _____.....

c) Potrebuješ interaktivni učbenik. Na str. 71 (na vrhu) klikni na puščice, kot kaže črna puščica. Rešil/a boš 4 interaktivne naloge.



- Pri 1. nalogi (DELITEV EVROPE) države pobarvaj z enako barvo, kot je napisano poimenovanje dela Evrope, ki mu pripadajo. Najprej klikni na ustrezen čopič in nato klikni na ustrezno državo. (Krogci predstavljajo žepne države, ki jih moraš tudi pobarvati.)

Preveri pravilnost svojih odgovorov, tako da klikneš na PREVERI.

- 2. naloga: GOSTOTA PREBIVALSTVA. Oglej si zemljevid gostote prebivalstva in za vsako trditev označi, ali je pravilna ali ne.

- 3. naloga: NARAVNE ENOTE EVROPE: Imena morij in oceanov, otokov in polotokov ter ožin prenesi na ustrezna mesta na zemljevidu.

- 4. naloga. NARAVNE ENOTE – POVRŠJE IN REKE EVROPE: Imena naravnih enot prenesi na ustrezna mesta na zemljevidu (najprej površje, nato reke).

Če nimaš dostopa do interaktivnega učbenika ali ne moreš odpreti nalog, mi obvezno pošlji mejl, da ti pošljem tiskano verzijo nalog!

P.S. Ne pozabi mi poslati sliko/e svojega dela. 😊

REŠITVE

<p>1.</p>	<p>1 Vzhodna Evropa in Severna Azija kljub svoji velikosti zajemata le štiri države. S pomočjo naštetih besed, ki se nanašajo na določeno državo, sklepaj, za katero državo gre.</p> <table border="1"> <tr> <td>Sibirija</td> <td>+</td> <td>največja država na svetu</td> <td>+</td> <td>Moskva</td> <td>+</td> <td>leži v Aziji in v Evropi</td> <td>=</td> <td>RUSIJA</td> </tr> <tr> <td>dobri pogoji za kmetijstvo</td> <td>+</td> <td>48 milijonov prebivalcev</td> <td>+</td> <td>večja od Nemčije</td> <td>+</td> <td>meji na Slovaško</td> <td>=</td> <td>UKRAJINA</td> </tr> <tr> <td>meji samo na dve državi</td> <td>+</td> <td>romanski jezik</td> <td>+</td> <td>nekoč del Romunije</td> <td>+</td> <td>le malo večja od Slovenije</td> <td>=</td> <td>MOLDAVIJA</td> </tr> <tr> <td>nima izhoda na morje</td> <td>+</td> <td>meji na Litvo</td> <td>+</td> <td>Minsk</td> <td>+</td> <td>ima podobno ime kot Rusija</td> <td>=</td> <td>BELORUSIJA</td> </tr> </table>	Sibirija	+	največja država na svetu	+	Moskva	+	leži v Aziji in v Evropi	=	RUSIJA	dobri pogoji za kmetijstvo	+	48 milijonov prebivalcev	+	večja od Nemčije	+	meji na Slovaško	=	UKRAJINA	meji samo na dve državi	+	romanski jezik	+	nekoč del Romunije	+	le malo večja od Slovenije	=	MOLDAVIJA	nima izhoda na morje	+	meji na Litvo	+	Minsk	+	ima podobno ime kot Rusija	=	BELORUSIJA
Sibirija	+	največja država na svetu	+	Moskva	+	leži v Aziji in v Evropi	=	RUSIJA																													
dobri pogoji za kmetijstvo	+	48 milijonov prebivalcev	+	večja od Nemčije	+	meji na Slovaško	=	UKRAJINA																													
meji samo na dve državi	+	romanski jezik	+	nekoč del Romunije	+	le malo večja od Slovenije	=	MOLDAVIJA																													
nima izhoda na morje	+	meji na Litvo	+	Minsk	+	ima podobno ime kot Rusija	=	BELORUSIJA																													
<p>2.</p>	<p>2 Celotna Vzhodna Evropa je nižavje, ki se prek Urala nadaljuje tudi v Severno Azijo. Obkroži naravne enote, ki so v Vzhodni Evropi in Severni Aziji.</p>																																				
<p>3</p>	<p>3 V Vzhodni Evropi in Severni Aziji so hladnejša podnebja in temu prilagojeno rastlinstvo. Rastlinstvo poveži z ustreznim opisom in podnebjem. Uporabi različne barve.</p>																																				

4.	<p>Vzhodna Evropa in Severna Azija sta zelo redko poseljeni. V učbeniku si na straneh 14 in 15 ter 78-79 oglej zemljevida, ki prikazujeta gostoto poselitve.</p> <p>A) Primerjaj poselitve Vzhodne Evrope s poselitvijo v ostalih enotah Evrope. Kaj opaziš?</p> <p>Vzhodna Evropa je poleg Severne Evrope najredkeje poseljen del Evrope.</p> <p>B) Kako se znotraj Vzhodne Evrope spreminja gostota poselitve?</p> <p>Gostota poselitve se zmanjšuje proti severu in vzhodu. Večje zgojitve so ob rekah in večjih mestih.</p> <p>C) Primerjaj poselitev Vzhodne Evrope s poselitvijo Severne Azije. Kaj opaziš?</p> <p>Severna Azija je še redkeje poseljena kot Vzhodna Evropa, večja gostota je le na jugu.</p> <p>C) Naštej nekaj dejavnikov, ki vplivajo na gostoto poselitve.</p> <p>Geografska lega, nadmorska višina, podnebje, oddaljenost od morja in bližina reke, promet, gospodarska razvitost območja...</p>
5.	<p>Najpomembnejša gospodarska dejavnost v Vzhodni Evropi in Severni Aziji je industrija. V učbeniku na strani 69 preberi razdelek, ki govori o gospodarstvu, in odgovori na vprašanja.</p> <p>A) Kje so največja rudna nahajališča v Vzhodni Evropi in Severni Aziji?</p> <p>V Sibiriji in na Uralu</p> <p>B) Zakaj velik del rud v Vzhodni Evropi in Severni Aziji ne izkoriščajo?</p> <p>Zaradi hladnega podnebja, velike oddaljenosti in slabe prometne dostopnosti.</p> <p>C) Kakšne vrste industrija prevladuje v Vzhodni Evropi in Severni Aziji?</p> <p>Težka industrija</p> <p>Č) Zakaj so številne tovarne na tem območju v preteklosti propadle?</p> <p>Zaradi zastarele tehnologije in nekonkurenčnih izdelkov.</p> <p>D) Katere so posledice propada tovarn?</p> <p>Posledice propada tovarn so socialni nemiri, visoka stopnja brezposelnosti, revščina, odseljevanje v razvitejše države</p>

UČB. STR. 70-71:

Naloga obkroževanja:

1c 2 a) Ural b) Kavkaz c) Črnem č) Dardanele 3 c 4 c 5 a 6 c 7 b 8 a 9 c 10 b

11 b

Rešitve interaktivnih nalog:

1. Učb. str. 63

DRUŽBENE ZNAČILNOSTI SEVERNE EVROPE

Severna Evropa je _____ najredkeje _____ poseljen del Evrope.
najgosteje **najredkeje** najbolj enakomerno

Največja mesta so na _____ jugu _____, ob morju.
severu zahodu **jugu**

Zaradi vpliva Severnoatlantskega toka so obale _____ Norveške _____ poseljene daleč na sever.
Švedske **Norveške** Finske

Pribaltske države imajo _____ skromna _____ rudna bogastva.
raznovrstna **skromna** bogata

_____ Norveška _____ ima bogata nahajališča nafte in zemeljskega plina.
Norveška Danska Islandija

Poleg pribaltskih držav ima ugodne pogoje za kmetijstvo tudi _____ Danska _____.
Danska Norveška Finska

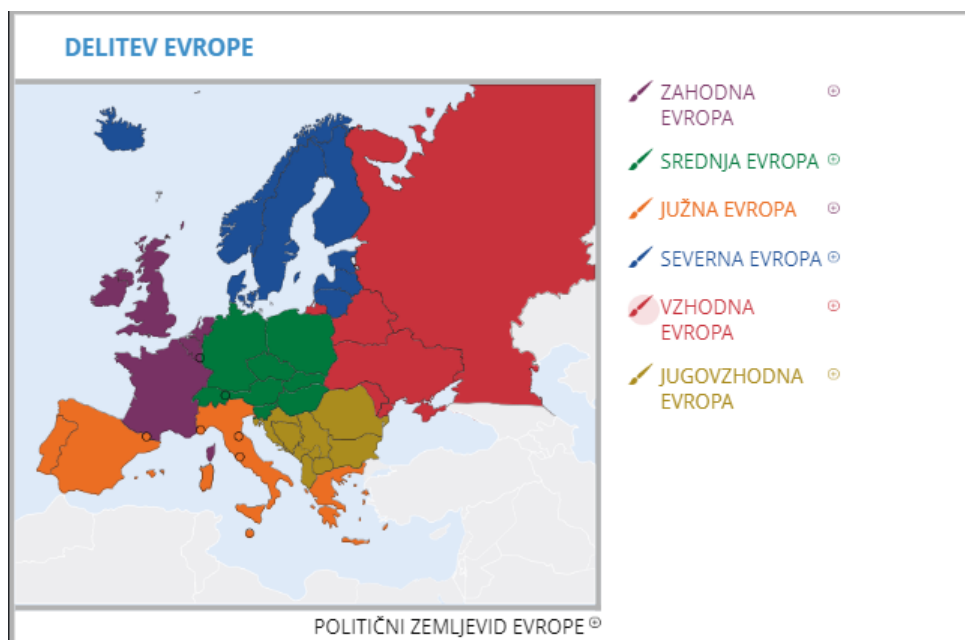
2. Učb. str. 62: Oglej si kratek video o POLARNEM SIJU .

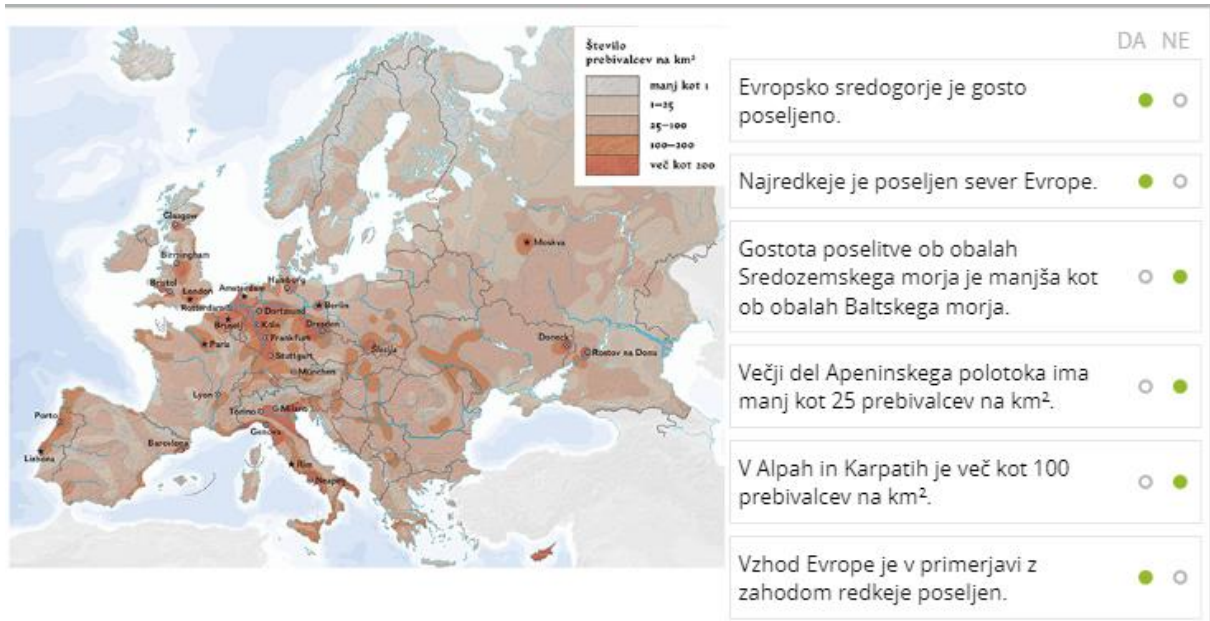
1. Kako še drugače imenujemo POLARNI SIJ? _____ **SEVERNI** _____ ali
_____ **JUŽNI** _____ sij.

2. Kaj je polarni sij? **SVETLOBA V VISOKIH PLASTEH OZRAČJA NA POLARNIH OBMOČJIH, KI JE JASNO VIDNA NA NOČNEM NEBU.**

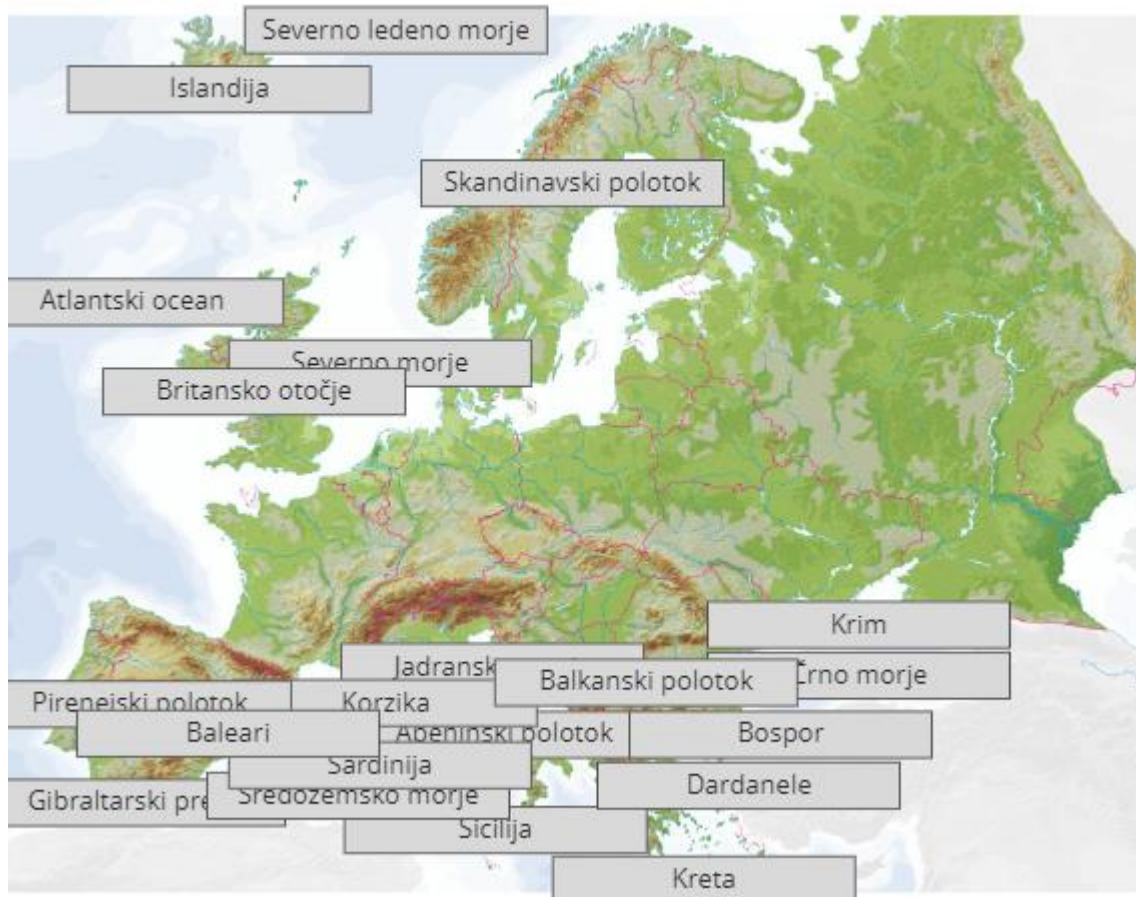
3. Kakšne barve je sij (svetloba) - če delci zadenejo atom kisika? _____ **ZELENE**
- če delci zadenejo atom dušika? _____ **RDEČE**

Interaktivni učbenik, str. 71:

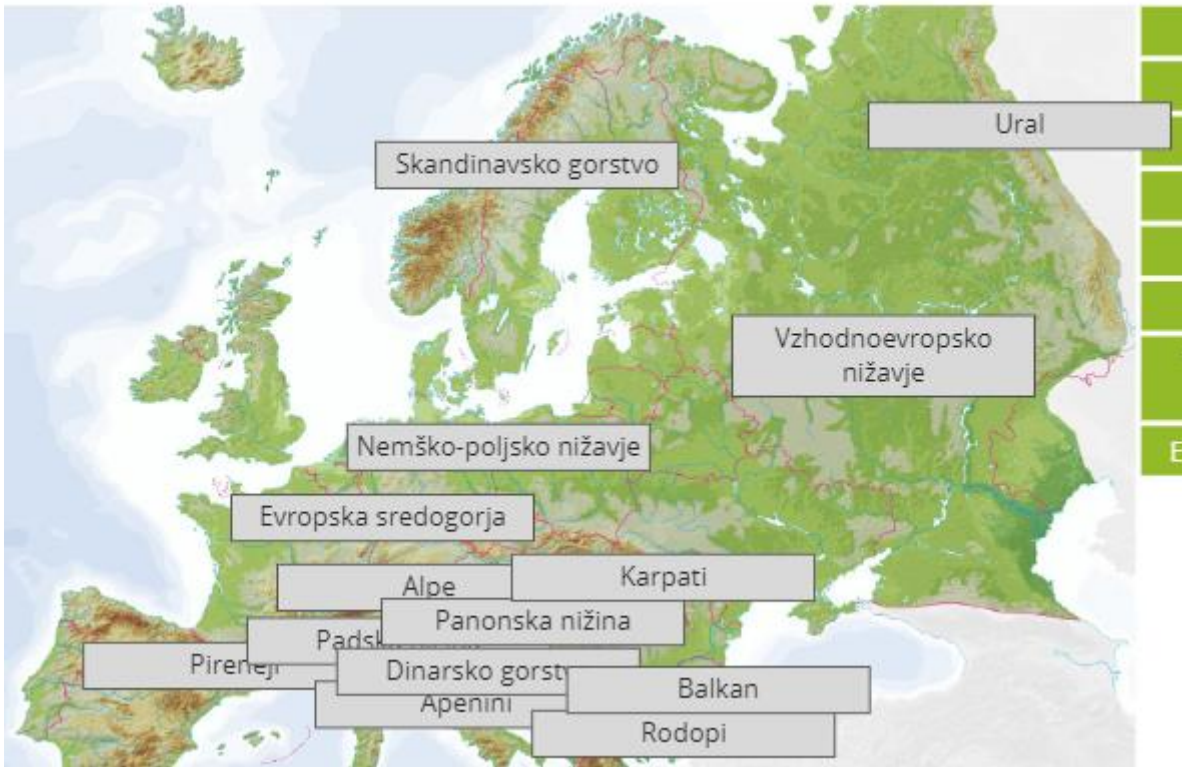




EVROPA



EVROPA



EVROPA

