

Dragi učenci, učenke, spoštovani starši.

Pred vami je prvi sklop navodil za delo pri predmetu **geografija**. Obsega vsebino za 2 šolski uri oziroma za teden od 16. do 20. marca 2020. Delo si razporedite sami.

Na začetku vam podajam nekaj splošnih navodil.

Na spletni strani <https://www.irokus.si/> so v času učenja na daljavo brezplačno dostopna vsa učbeniška gradiva založbe Rokus Klett, torej tudi učbenik **RAZISKUJEM STARI SVET 7**.

Navodila za aktivacijo dostopa najdete na:

https://www.devetletka.net/resources/files/Navodilo_za_registracijo.pdf .

Sledite navodilom in se registrirajte kot učenec.

Učne liste lahko natisnete, rešite in prilepite v zvezek ali pa rešitve napišete v zvezek, če nimate tiskalnika. Enako velja za snov. Vsekakor si boste nove vsebine bolje zapomnili, če jih boste prepisali v zvezek. Na spodnja kontakta mi prosim pošljite tudi skenirane/fotografirane rešene učne liste in drugo opravljeno delo, prav tako me lahko vprašate, če česa ne znate ali razumete.

Kontaktirate me lahko preko **eAsistenta** ali na e-mail naslov: **tjasa.grobin@guest.arnes.si**

Uspešno delo vam želim in ostanite zdravi.


Tjaša Grobin Kham

- Najprej dokončaj zapis zadnje snovi (**OBLIKOVANJE POVRŠJA**) v zvezek in si oglej video posnetke ter slike (str. 3-14).
- Nato začnemo z novo snovjo: **VZHODNA EVROPA IN SEVERNA AZIJA** (od str. 15 dalje). Sledi navodilom.

OBLIKOVANJE POVRŠJA

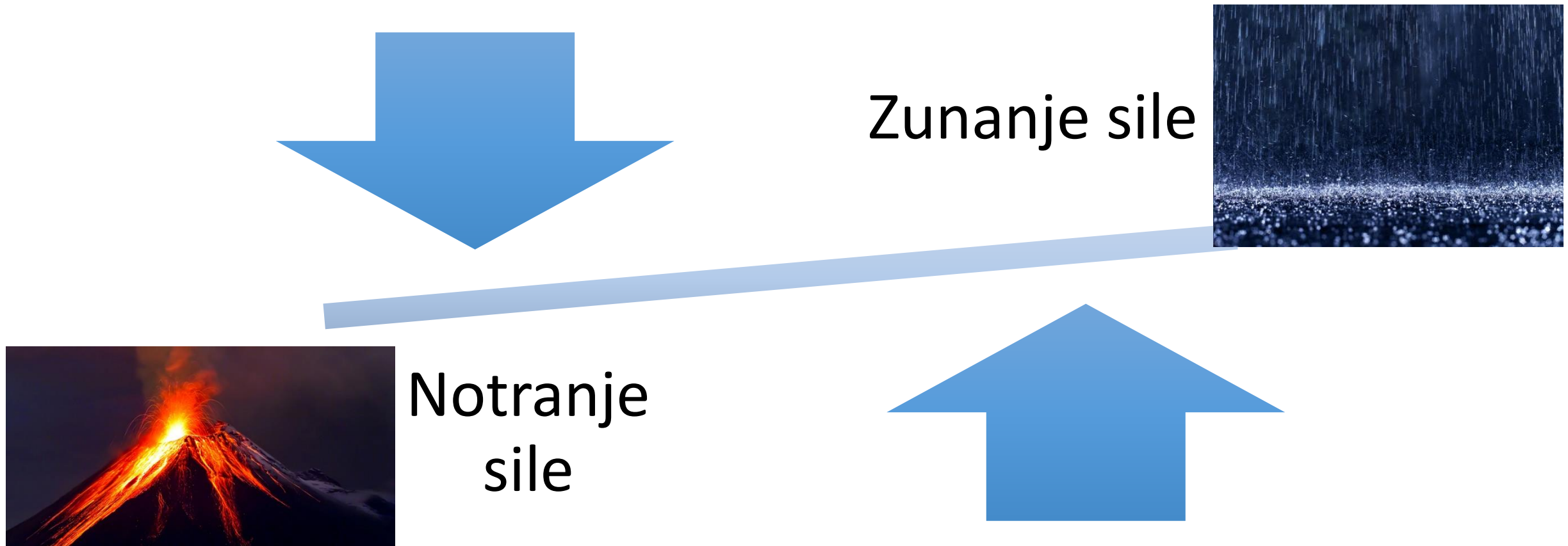
(Učbenik str. 60-61)

1. Zemljina skorja je nastala pred 4,5 milijarde let.



<https://www.youtube.com/watch?v=uGcDed4xVD4>

2. Površje oblikujejo **zunanje** in **notranje** sile.



A) Notranje sile površje ZVIŠUJEJO. So posledica delovanja LITOSFERSKIH PLOŠČ.

- Potresi
- Vulkani
- Gorotvorna gibanja in gubanja



<https://www.youtube.com/watch?v=ryrXAGY1dmE>

B) Zunanje sile površje ZNIŽUJEJO:

- delovanje rek



- delovanje vetra



-delovanje morja




- delovanje ledenikov.



3. Ledeniške reliefne oblike

- Doline v obliki črke U
- Morene
- Ledeniška jezera
- Krnice



- Fjordi in fjelli



https://www.youtube.com/watch?v=U_2DtNLnc0M

4. Površje preoblikuje tudi **človek**.

Npr.

- Gradnja jezov,
- krčenje gozdov,
- kamnolomi in rudniki

idr.

Človek tako povzroča globalno segrevanje (taljenje ledu in naraščanje gladine morja).



NALOGA:

- *Oglej si video vsebine v interaktivnem učbeniku na str. 60 in 61:
-KLIKNI NA IKONO*



- *Oglej si tudi slike vpliva človeka na pokrajino.*



Prepiši snov v zvezke!

VZHODNA EVROPA IN SEVERNA AZIJA

Učb. str. 64-67

1. Stik Evrope in Azije

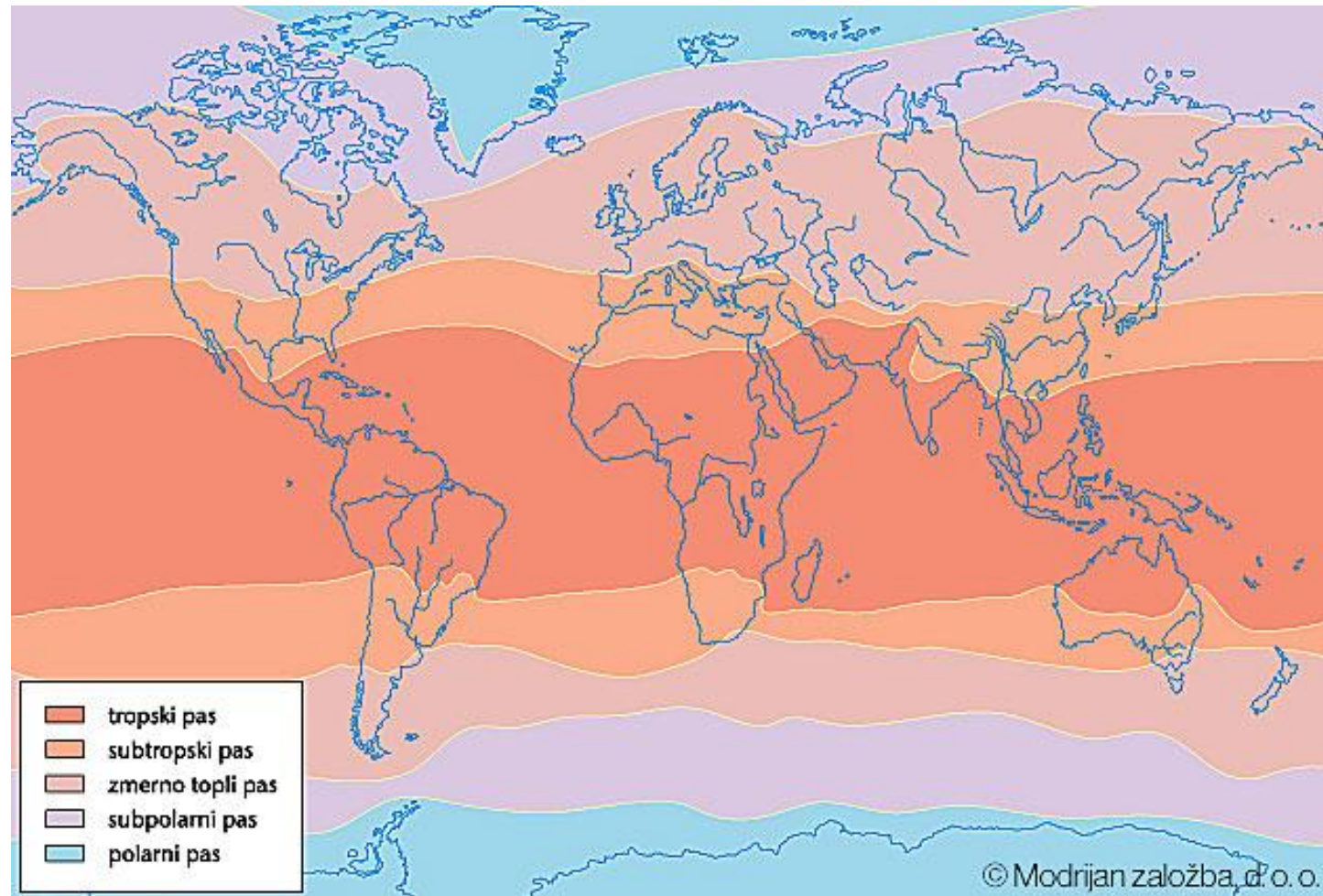
- Skupne naravne in družbene značilnosti,
- povezuje ju Rusija,
- lega med:
 - Severnim ledenim morjem,
 - Barentsovim in Belim Morjem,
 - Severno, Srednjo in JV Evropo,
 - Črnim morjem,
 - JZ, Srednjo in V Azijo,
 - Tihim oceanom.



Površje Vzh. Evrope in S. Azije



2. Večina ozemlja sodi v severni zmernotopli pas, skrajni sever pa v subpolarni in polarni pas.



3. Države

- **Azija:** azijski del Rusije
- **Evropa:**
 - Belorusija (Minsk)
 - Ukrajina (Kijev)
 - Moldavija (Kišinjev)
 - evropski del Rusije (Moskva)

Države so naslednice nekdanje Sovjetske zveze.

Rusija (car)



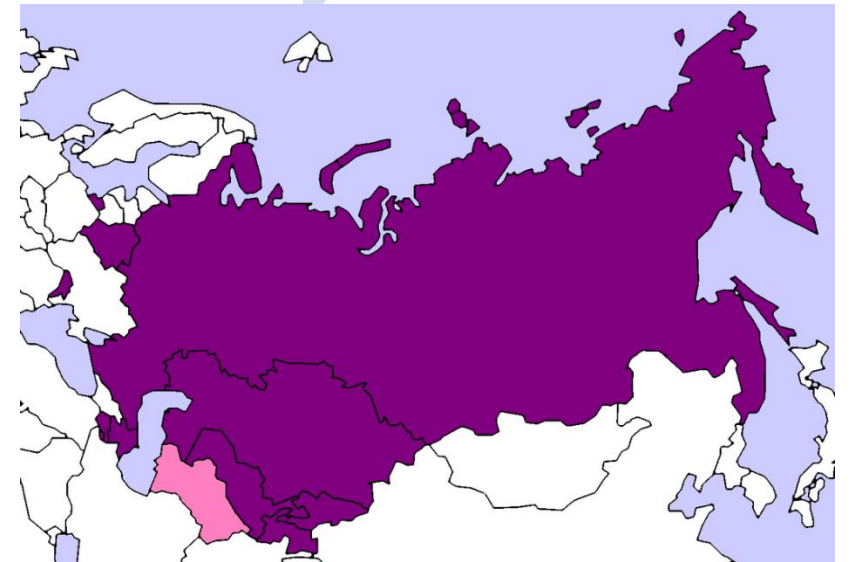
Nikolaj II

Sovjetska zveza
(do 1991)



Josip Stalin

Skupnost neodvisnih držav



4. Površje

- Največji del V. Evrope pripada **Vzhodnoevropskemu nižavju**. (rahlo valovit svet z nekaterimi višjimi vzpetinami).
- Na Z so mladonagubano gorovje **Karpati**.
- Staro gorovje **Ural** predstavlja mejo med Evropo in Azijo.
- Vzhodno od Urala je Severna Azija. Tu se razprostira obsežna **Sibirija**. Na njenem Z. delu je **Zahodnosibirsko nižavje**, ki se proti vzhodu dviguje v **Srednesibirsko višavje**. Na J in V so številna stara **gorovja**.
- Na skrajnem V se nahaja polotok Kamčatka (delujoči ognjeniki).

REŠI UČNI LIST

VZHODNA EVROPA IN RUSIJA: DRZAVE IN GLAVNA MESTA

Posamezne države so označene s številkami od 1 do 4. V preglednico k posamezni številki vpiši ime države in njenega glavnega mesta, ki jih vriši v zemljevid.



Številka	Država	Glavno mesto
1		
2		
3		
4		

VZHODNA EVROPA IN RUSIJA: NARAVNE ENOTE

Na črte k posameznim črkam napiši imena nižavja (1), gorovja (2), rek (A,B, C), jezera (Č) in morja (D).

1 _____
2 _____

A _____
B _____
C _____
Č _____
D _____



Rešitve DL

Številka	Država	Glavno mesto
1	RUSIJA	MOSKVA
2	BELORUSIJA	MINSK
3	UKRAJINA	KIJEV
4	MOLDAVIJA	KIŠINJEV

1 VZHODNOEVROPSKO
2 NIŽAVJE
URAL

A DNEPER
B VOLGA
C URAL
Č KASPIJSKO JEZERO
D ČRNO MORJE



UČNI LIST: POVRŠJE SEVERNE AZIJE

V nemo karto vpiši glavne naravne enote Severne Azije:
nižavje, višavje, reke in morja.



REŠITVE

