

## **Dragi učenci, učenke, spoštovani starši.**

Pred vami je prvi sklop navodil za delo pri predmetu **geografija**. Obsega vsebino za 2 šolski uri oziroma za teden od 16. do 20. marca 2020. Delo si razporedite sami.

Na začetku vam podajam nekaj splošnih navodil.

Na spletni strani <https://www.irokus.si/> so v času učenja na daljavo brezplačno dostopna vsa učbeniška gradiva založbe Rokus Klett, torej tudi učbenik **RAZISKUJEM STARI SVET 7**.

Navodila za aktivacijo dostopa najdete na:

[https://www.devetletka.net/resources/files/Navodilo\\_za\\_registracijo.pdf](https://www.devetletka.net/resources/files/Navodilo_za_registracijo.pdf) .

Sledite navodilom in se registrirajte kot učenec.

Učne liste lahko natisnete, rešite in prilepite v zvezek ali pa rešitve napišete v zvezek, če nimate tiskalnika. Enako velja za snov. Vsekakor si boste nove vsebine bolje zapomnili, če jih boste prepisali v zvezek. Na spodnja kontakta mi prosim pošljite tudi skenirane/fotografirane rešene učne liste in drugo opravljeno delo, prav tako me lahko vprašate, če česa ne znate ali razumete.

Kontaktirate me lahko preko **eAsistenta** ali na e-mail naslov: **tjasa.grobin@guest.arnes.si**

Uspešno delo vam želim in ostanite zdravi.

Tjaša Grobin Kham

- Najprej dokončaj zapis zadnje snovi (**OBLIKOVANJE POVRŠJA**) v zvezek in si oglej video posnetke ter slike (str. 3-14).
- Nato začnemo z novo snovjo: **VZHODNA EVROPA IN SEVERNA AZIJA** (od str. 15 dalje). Sledi navodilom.

# OBLIKOVANJE POVRŠJA

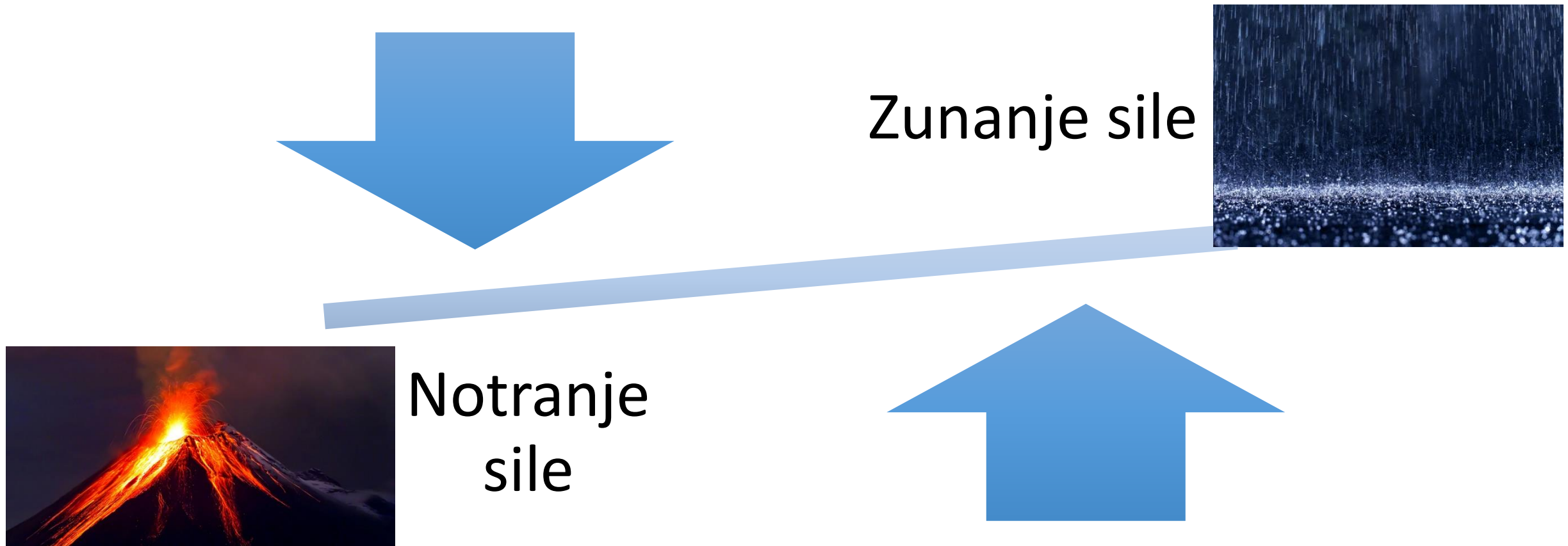
**(Učbenik str. 60-61)**

# 1. Zemljina skorja je nastala pred 4,5 milijarde let.



<https://www.youtube.com/watch?v=uGcDed4xVD4>

## 2. Površje oblikujejo **zunanje** in **notranje** sile.



# A) Notranje sile površje ZVIŠUJEJO. So posledica delovanja LITOSFERSKIH PLOŠČ.

- Potresi
- Vulkani
- Gorotvorna gibanja in gubanja



<https://www.youtube.com/watch?v=ryrXAGY1dmE>

## **B) Zunanje sile površje ZNIŽUJEJO:**

- delovanje rek



- delovanje vetra





-delovanje morja



- delovanje ledenikov.



# 3. Ledeniške reliefne oblike

- Doline v obliki črke U
- Morene
- Ledeniška jezera
- Krnice



- Fjordi in fjelli



[https://www.youtube.com/watch?v=U\\_2DtNLnc0M](https://www.youtube.com/watch?v=U_2DtNLnc0M)

## 4. Površje preoblikuje tudi **človek**.

Npr.

- Gradnja jezov,
- krčenje gozdov,
- kamnolomi in rudniki

idr.

Človek tako povzroča globalno segrevanje (taljenje ledu in naraščanje gladine morja).



# NALOGA:

- *Oglej si video vsebine v interaktivnem učbeniku na str. 60 in 61:  
-KLIKNI NA IKONO*



- *Oglej si tudi slike vpliva človeka na pokrajino.*



*Prepiši snov v zvezke!*

# VZHODNA EVROPA IN SEVERNA AZIJA

**Učb. str. 64-67**

# 1. Stik Evrope in Azije

- Skupne naravne in družbene značilnosti,
- povezuje ju Rusija,
- lega med:
  - Severnim ledenim morjem,
  - Barentsovim in Belim Morjem,
  - Severno, Srednjo in JV Evropo,
  - Črnim morjem,
  - JZ, Srednjo in V Azijo,
  - Tihim oceanom.

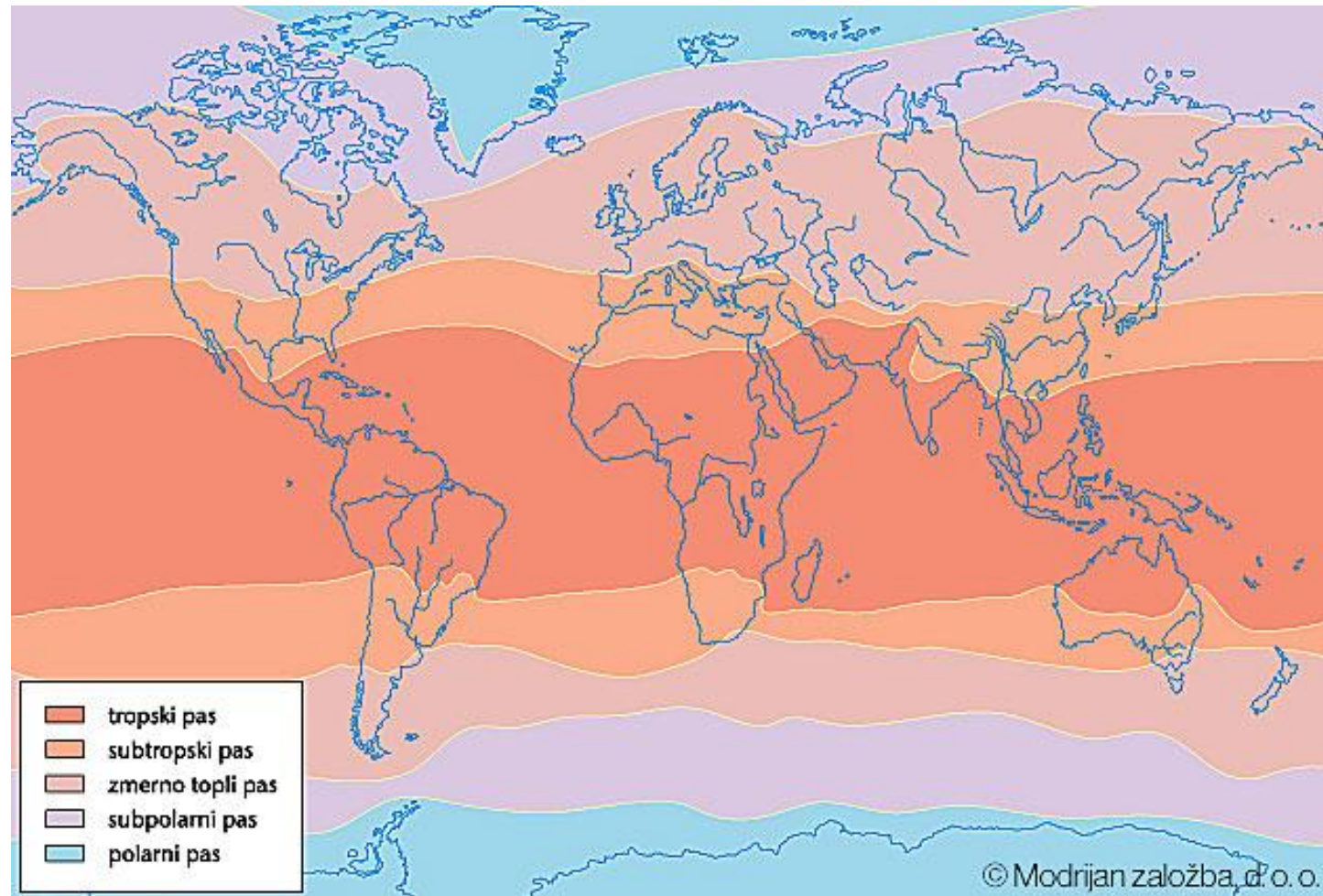




# *Površje Vzh. Evrope in S. Azije*



## 2. Večina ozemlja sodi v severni zmernotopli pas, skrajni sever pa v subpolarni in polarni pas.



# 3. Države

- **Azija:** azijski del Rusije
- **Evropa:**
  - Belorusija (Minsk)
  - Ukrajina (Kijev)
  - Moldavija (Kišinjev)
  - evropski del Rusije (Moskva)

# Države so naslednice nekdanje Sovjetske zveze.

Rusija (car)



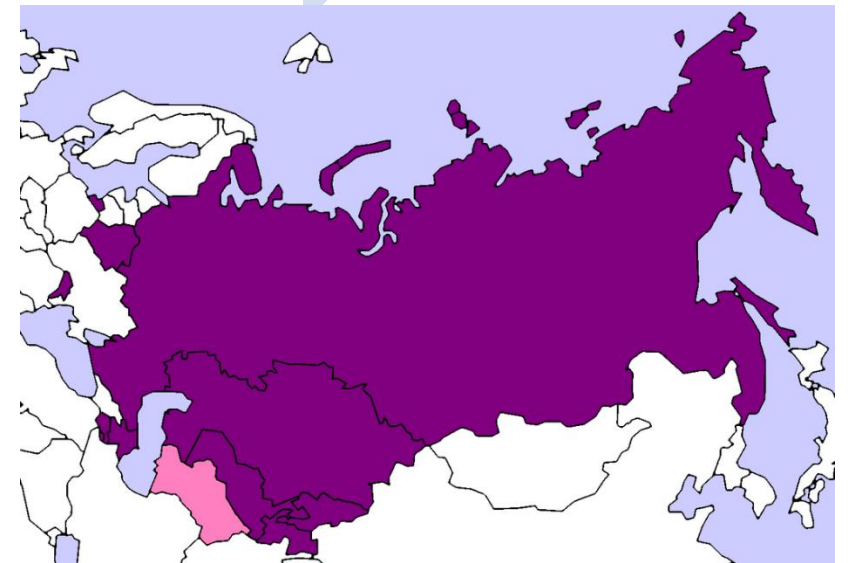
Nikolaj II

Sovjetska zveza  
(do 1991)



Josip Stalin

Skupnost neodvisnih držav



## 4. Površje

- Največji del V. Evrope pripada **Vzhodnoevropskemu nižavju**. (rahlo valovit svet z nekaterimi višjimi vzpetinami).
- Na Z so mladonagubano gorovje **Karpati**.
- Staro gorovje **Ural** predstavlja mejo med Evropo in Azijo.
- Vzhodno od Urala je Severna Azija. Tu se razprostira obsežna **Sibirija**. Na njenem Z. delu je **Zahodnosibirsko nižavje**, ki se proti vzhodu dviguje v **Srednesibirsko višavje**. Na J in V so številna stara **gorovja**.
- Na skrajnem V se nahaja polotok Kamčatka (delujoči ognjeniki).

# REŠI UČNI LIST

## VZHODNA EVROPA IN RUSIJA: DRŽAVE IN GLAVNA MESTA

Posamezne države so označene s številkami od 1 do 4. V preglednico k posamezni številki vpiši ime države in njenega glavnega mesta, ki jih vriši v zemljevid.



Številka	Država	Glavno mesto
1		
2		
3		
4		

## VZHODNA EVROPA IN RUSIJA: NARAVNE ENOTE

Na črte k posameznim črkam napiši imena nižavja (1), gorovja (2), rek (A,B, C), jezera (Č) in morja (D).

1	_____	A	_____
2	_____	B	_____
		C	_____
		Č	_____
		D	_____



# Rešitve DL

Številka	Država	Glavno mesto
1	RUSIJA	MOSKVA
2	BELORUSIJA	MINSK
3	UKRAJINA	KIJEV
4	MOLDAVIJA	KIŠINJEV

1 VZHODNOEVROPSKO  
2 NIŽAVJE  
URAL

A DNEPER  
B VOLGA  
C URAL  
Č KASPIJSKO JEZERO  
D ČRNO MORJE





# UČNI LIST: POVRŠJE SEVERNE AZIJE

V nemo karto vpiši glavne naravne enote Severne Azije:  
nižavje, višavje, reke in morja.



# REŠITVE

